

Zadanie 1. (0–1 pkt)

Zaznacz poprawne dokończenie zdania.

...../1

Aktualna konstytucja Rzeczypospolitej Polskiej w dniu 2 kwietnia 1997 roku została

- A. uchwalona przez Zgromadzenie Narodowe.
- B. podpisana przez Prezydenta Rzeczypospolitej Polskiej.
- C. zaakceptowana w referendum ogólnokrajowym.
- D. opublikowana w Dzienniku Ustaw.

Zadanie 2. (0–6 pkt)

Jedną z konstytucyjnych zasad ustroju Polski jest zasada trójpodziału władzy. Podaj nazwy poszczególnych typów władz oraz organów konstytucyjnych powołanych do ich sprawowania (zgodnie z art. 10. ust. 2 konstytucji RP).

...../6

A. Nazwa władzy:

Instytucje:

B. Nazwa władzy:

Instytucje:

C. Nazwa władzy:

Instytucje:

Zadanie 3. (0–1 pkt)

Zaznacz poprawne dokończenie zdania.

...../1

Ograniczeniem zasady pluralizmu w polskiej konstytucji jest artykuł 13. – nie ma w nim zapisu o zakazie istnienia partii politycznych i innych organizacji

- A. odwołujących się w swych programach do totalitarnych metod i praktyk działania nazizmu i faszyzmu.
- B. których program lub działalność zakłada lub dopuszcza stosowanie przemocy w celu zdobycia władzy.
- C. których program lub działalność zakłada lub dopuszcza nienawiść rasową lub narodowościową.
- D. odwołujących się w swych programach do totalitarnych metod i praktyk działania socjalizmu.

Zadanie 4. (0–4 pkt)

Zaznacz poprawne dokończenie zdań 1–4.

...../4

1. Kandydat na Prezydenta Rzeczypospolitej Polskiej musi mieć ukończone najpóźniej w dniu głosowania

- A. 21 lat.
- B. 25 lat.
- C. 30 lat.
- D. 35 lat.

2. Wybory do Senatu, w świetle polskiej konstytucji, są

- A. powszechne, równe, proporcjonalne.
- B. tajne, bezpośrednie, większościowe.
- C. powszechne, bezpośrednie, równe.
- D. powszechne, bezpośrednie, tajne.

3. Czynne prawo wyborcze w wyborach do Sejmu posiada obywatel polski, który najpóźniej w dniu głosowania ukończył

- A. 18 lat.
- B. 21 lat.
- C. 25 lat.
- D. 30 lat.

4. Ważność wyborów prezydenckich w Polsce stwierdza

- A. Państwowa Komisja Wyborcza.
- B. Trybunał Konstytucyjny.
- C. Sąd Najwyższy.
- D. Zgromadzenie Narodowe.

Zadanie 5. (0–5 pkt)

Uzupełnij tabelę – obok liczby mandatów wpisz właściwe nazwy ugrupowań politycznych, które uzyskały te mandaty w ostatnich wyborach do Sejmu.

...../5

Liczba mandatów	Nazwa ugrupowania
235	
138	
42	
28	
16	

Zadanie 6. (0–4 pkt)

Podaj nazwę tej funkcji parlamentu, którą sprawuje w świetle konstytucji wyłącznie Sejm. Wyjaśnij trzy sposoby, za pomocą których Sejm może tę funkcję wykonywać.

...../4

Nazwa funkcji:

Sposób 1 –

.....

.....

.....

Sposób 2 –

.....

.....

.....

Sposób 3 –

.....

.....

.....

Zadanie 7. (0–3 pkt)

Uchwalona przez parlament ustawa trafia do Prezydenta Rzeczypospolitej Polskiej, któremu konstytucja daje trzy możliwości postępowania – opisz każdą z nich.

...../3

Możliwość 1:

.....

.....

Możliwość 2:

.....

.....

Możliwość 3:

.....

.....

Zadanie 8. (0–2 pkt)

Zaznacz poprawne dokończenie zdań 1–2.

...../2

1. Prezydent Rzeczypospolitej Polskiej za naruszenie konstytucji, ustawy lub za popełnienie przestępstwa może być pociągnięty do odpowiedzialności przed

- A. Zgromadzeniem Narodowym.
- B. Trybunałem Stanu.
- C. Trybunałem Konstytucyjnym.
- D. Sądem Najwyższym.

2. Wojewoda jest w województwie przedstawicielem

- A. Rady Ministrów.
- B. Prezesa Rady Ministrów.
- C. Ministra Spraw Wewnętrznych i Administracji.
- D. Ministra Obrony Narodowej.

Zadanie 9. (0–2 pkt)

Podaj nazwy organów samorządu terytorialnego na poziomie województwa.

...../2

Organ stanowiący i kontrolny:

Organ wykonawczy:

Zadanie 10. (0–4 pkt)

Podaj imiona i nazwiska osób publicznych widocznych na zdjęciach A–B oraz nazwę pełnionych przez nich funkcji.


...../4



<https://pl.wikipedia.org>

Imię i nazwisko:

Funkcja:



<https://pl.wikipedia.org>

Imię i nazwisko:

Funkcja:

Zadanie 11. (0–3 pkt)

Przedstaw strukturę sądów powszechnych w Rzeczypospolitej Polskiej, wpisując w wykropkowane miejsca (A–C) właściwe nazwy sądów.

...../3

Sąd Najwyższy



C



B



A

Zadanie 12. (0–7 pkt)

Na podstawie źródła i własnej wiedzy wykonaj polecenia A–B.

...../7



Na podstawie: <https://pl.wikipedia.org>

A. Podaj nazwy województw sąsiadujących z województwem dolnośląskim i obok nich zapisz numery, którymi na mapie oznaczono te województwa.

.....
.....
.....
.....
.....
.....

B. Podaj nazwy sąsiadujących z Polską państw-członków NATO i obok nich zapisz litery, którymi na mapie oznaczono te państwa.

.....
.....
.....
.....
.....
.....

Zadanie 13. (0–5 pkt)

Rozstrzygnij prawdziwość poniższych zdań – obok zadania prawdziwego zaznacz P (prawda), obok fałszywego F (fałsz).

...../5

1.	W wyniku traktatów rzymskich została utworzona Europejska Wspólnota Węgla i Stali.	P	F
2.	Razem z Polską do Unii Europejskiej przystąpiły także m.in. Estonia i Słowenia.	P	F
3.	W momencie podpisywania traktatu z Maastricht we Wspólnotach Europejskich było 12 państw.	P	F
4.	Członkostwo w NATO Polska uzyskała w tym samym momencie, co Rumunia i Bułgaria.	P	F
5.	Oba akcesy – do NATO i do UE – zostały w Polsce zatwierdzone w referendum ogólnokrajowym.	P	F

Zadanie 14. (0–4 pkt)

Podaj pełne polskie nazwy organów ONZ, których dotyczą opisy A–D.

...../4

A.

Składa się z 54 członków, wybieranych co 3 lata. Do kompetencji tego organu należy inicjowanie i prowadzenie badań nad zagadnieniami ekonomicznymi i społecznymi oraz przygotowywanie projektów konwencji, dotyczących tych kwestii. Może również wydawać w tym zakresie zalecenia kierowane do państw członkowskich.

.....

B.

Składa się z przedstawicieli wszystkich państw członkowskich ONZ, z których dysponuje jednym głosem. Może zajmować się każdym zagadnieniem, wchodzącym w zakres kompetencji ONZ. Organ ten jest odpowiedzialny m.in. za uchwalanie budżetu, formułowanie zaleceń w celu rozwijania współpracy międzynarodowej, przyjmowanie nowych członków.

.....

C.

Składa się z 15 niezależnych sędziów, wybieranych spośród osób zgłoszonych przez państwa członkowskie. Stronami postępowania przed tym organem mogą być tylko państwa (a nie np. osoby fizyczne czy prawne), zarówno członkowie ONZ jak i państwa spoza organizacji, które uznały jego jurysdykcję. Swoją siedzibę ma w Hadze.

.....

D.

Tworzy go 15 członków: 5 stałych (Rosja, Chiny, USA, Wielka Brytania, Francja) i 10 członków niestałych wybieranych na 2 lata. Odpowiada za utrzymanie pokoju i bezpieczeństwa na świecie. Obecnie w skład tego organu wchodzi także Polska.

.....

Zadanie 15. (0–1 pkt)

...../1

Zaznacz poprawne dokończenie zdania.

Funkcję Sekretarza Generalnego ONZ pełni obecnie

- A. Jens Stoltenberg.
- B. Ban Ki-moon.
- C. António Guterres.
- D. Jean-Claude Juncker.

Zadanie 16. (0–7 pkt)

Mapa polityczna Europy



Na podstawie: <http://mapykonturowe.com.pl>

Uzupełnij tabelę – obok podanych dat przystąpienia do Wspólnot Europejskich/Unii Europejskiej wpisz w odpowiednie miejsca tabeli właściwe nazwy państw oraz numery, którymi zostały oznaczone na mapie.


...../7

Rok	Nazwa państwa	Numer
1951		
1973		
1981		
1986		
1995		
2004		
2007		

Zadanie 17. (0–9 pkt.)

Podaj nazwy problemów współczesnego świata, do których nawiązują zaprezentowane prace plastyczne Pawła Kuczyńskiego (A–C).
Swoje odpowiedzi uzasadnij, interpretując ich elementy graficzne.

...../9



<https://mymodernmet.com>


Nazwa:

.....

Interpretacja:

.....
.....
.....
.....
.....
.....
.....
.....

B




<https://news.zing.vn>

Nazwa:

.....

Interpretacja:

.....
.....
.....
.....
.....
.....
.....
.....



<http://www.pictorem.com>

Nazwa:

.....

Interpretacja:

.....
.....
.....
.....
.....
.....
.....
.....

Zadanie 18. (0–2 pkt)

Podaj przykład pozarządowej organizacji humanitarnej i opisz działania, które podejmuje.

...../2

Nazwa organizacji:

.....

Działania:

.....
.....
.....
.....
.....
.....
.....
.....
.....
.....
.....
.....
.....
.....
.....
.....
.....
.....