

KOD UCZNIĄ		

# KONKURS WIEDZY O MAZOWSZU

dla uczniów szkół podstawowych  
województwa mazowieckiego

II ETAP REJONOWY

2023

## Instrukcja

Czytaj uważnie wszystkie teksty i zadania.

W zadaniach z odpowiedziami: A, B, C, D lub P, F zaznacz znakiem jedną poprawną odpowiedź, otaczając ją kółkiem, np.:

B lub  F

Jeśli się pomylisz, błędną odpowiedź przekreśl i zaznacz inną odpowiedź, np.:

B  A lub  F  P

Pozostałe zadania wykonaj zgodnie z poleceniami. Odpowiedzi starannie zapisz w wyznaczonych miejscach. Możesz korzystać z kalkulatora prostego i lupy.

Na wykonanie wszystkich zadań masz 90 minut.

*Powodzenia!*

UZUPEŁNIA ZESPÓŁ SPRAWDZAJĄCY		
Maksymalna liczba punktów	<b>40</b>	<b>100%</b>
Uzyskana liczba punktów		
Podpis przewodniczącego		

**Zadanie 1. (0–2)**

Tekst

*W czasach prehistorycznych cały obszar Mazowsza był porośnięty gęstą i dość zróżnicowaną puszczą. Przykłady potencjalnej roślinności naturalnej wskazują, że teren województwa mazowieckiego charakteryzował się [wieloma] formacjami roślinnymi.*

Źródło: *Mazowsze, wczoraj, dziś i jutro*, s. 17

**Dobierz typ lasu charakterystyczny do miejsca występowania, dopisując w wyznaczonym miejscu właściwą literę.**

1. w dolinach rzek .....
2. na bagniskach .....

- A. łągi wierzbowo-topolowe i jesionowo-wiązowe
- B. bór dębowo-sosnowy
- C. łągi jesionowo-olszowe i olsy

**Zadanie 2. (0–2)**

Tabela. Dane klimatyczne zebrane w Radomiu w ciągu roku

	I	II	III	IV	V	VI	VII	VIII	IX	X	XI	XII
śr. temp. (°C)	-2,0	-0,9	3,0	9,1	14,3	17,8	19,9	19,3	14,5	9,2	4,7	0,4
opady (mm)	44	42	48	54	74	71	87	67	63	47	46	45

Dane za Climate Data: <https://pl.climate-data.org/europa/polska/masovian-voivodeship/radom-732/>

**Dokończ zdania. Wybierz, korzystając z kalkulatora, właściwą odpowiedź spośród podanych.**

**2.1. Roczna amplituda temperatury powietrza wynosi około**

- A.  $-3^{\circ}\text{C}$ .
- B.  $0^{\circ}\text{C}$ .
- C.  $15^{\circ}\text{C}$ .
- D.  $22^{\circ}\text{C}$ .

**2.2. Średnia roczna suma opadów atmosferycznych wynosi około**

- A. 42 mm.
- B. 57 mm.
- C. 288 mm.
- D. 480 mm.

Mapa do zadań 3 i 4



Źródło: Mazowsze Turystyka rowerowa

**Zadanie 3. (0–2)**

Na podstawie mapy określ współrzędne (z dokładnością do 1') podanych niżej obiektów. Pamiętaj, aby zapisując wartość szerokości i długości geograficznej podać międzynarodowe oznaczenia literowe kierunków świata (N, S, W, E).

1. Sanktuarium Matki Boskiej Loretańskiej w Loretto (oznaczony na mapie czerwoną obwódką) -

.....

2. Kościół w Kamionnej (oznaczony na mapie czerwoną obwódką) -

.....

**Zadanie 4. (0–2)**

**Na podstawie mapy wykonaj polecenie.**

Oblicz rzeczywistą odległość w linii prostej pomiędzy obiektami wymienionymi w zadaniu 3 wiedząc, że odległość pomiędzy nimi na mapie wynosi ok. 15,5 cm. Zapisz obliczenia.

Miejsce na obliczenia

Rzeczywista odległość pomiędzy obiektami wynosi .....

**Zadanie 5. (0–3)**

**Uzupełnij notatkę dotyczącą warunków wodnych. Podkreśl właściwe uzupełnienia wybrane spośród podanych w nawiasach.**

*W Kotlinie Warszawskiej zlokalizowany jest ważny węzeł hydrograficzny kraju – tu bowiem do Wisły wpadają jej dość znaczne dopływy: spośród prawobrzeżnych – (Narew / Warta), tocząca również wody Bugu; spośród lewobrzeżnych – Pilica i Bzura. Wszystkie te rzeki charakteryzują się (deszczowym / śnieżnym) typem reżimu rzecznego. Wiąże się to z przypadającym na okres (jesienny / wiosenny) zagrożeniem powodziowym.*

Źródło: Mazowsze, wczoraj, dziś i jutro, s. 16

**Zadanie 6. (0–2)**

Tekst

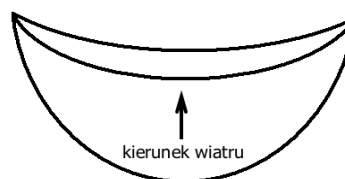
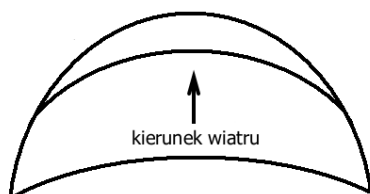
*Obfitość materiału skalnego pochodzącego z lodowca sprawiała, że powstawały duże terasy akumulacyjne i stożki sandrowe. Z powodu obniżającego się poziomu wód świeżo naniesiony materiał skalny podlegał wpływom wiatrów, tworząc system wydym piaskowych.*

Źródło: Mazowsze, wczoraj, dziś i jutro, s. 14

**6.1. Jak nazywa się opisany w tekście typ wydym spotykanych na Mazowszu? Zaznacz właściwą odpowiedź.**

- A. wydma gwiazdzista
- B. barchan
- C. wydma poprzeczna
- D. wydma paraboliczna

**6.2. Zaznacz odpowiednią rycinę przedstawiającą wskazany w tekście typ wydym.**



**Zadanie 7. (0–3)**

Uzupełnij notatkę dotyczącą grupy społecznej. Zaznacz poprawne odpowiedzi spośród podanych w nawiasach.

*W średniowieczu, cechą wyróżniającą Mazowsze na tle pozostałych dzielnic była duża liczba (duchowieństwa / szlachty). Grupa ta stanowiła (20-25 / 50-55) procent populacji, podczas gdy w innych prowincjach wskaźnik ten był znacznie niższy, wynosił bowiem (1-2 / 3-7) procent.*

Źródło: Mazowsze, wczoraj, dziś i jutro, s. 28

**Zadanie 8. (0–1)**

Tekst

*Zespolenie Mazowsza z Koroną nastąpiło dopiero w drugiej połowie lat dwudziestych XVI wieku, po bezpotomnej śmierci dwóch ostatnich książąt – Stanisława i Janusza III. Włączone do Królestwa Polskiego ziemie podzielone zostały na trzy województwa.*

Źródło: Mazowsze, wczoraj, dziś i jutro, s. 62

**Jaką nazwę nosiły ww. województwa? Zaznacz właściwą odpowiedź spośród podanych.**

- A. kujawskie, płockie, radomskie
- B. płockie, rawskie, mazowieckie
- C. małopolskie, płockie, wielkopolskie
- D. ciechanowskie, płockie, podlaskie

**Zadanie 9. (0–2)**

Tekst

**Jan Kochanowski - Na most Warszawski**

*Nieubłagana Wisło, próżno wstrząsasz rogi,  
Próżno brzegom gwałt czynisz i hamujesz drogi.  
Nalazł fortel król August, jako cię miał pożyć,  
A ty musisz tę swoją dobrą myśl położyć,  
Bo krom wiosel, krom prumów już dziś suchą nogą  
Twój grzbiet nieujeżdżony wszyscy deptać mogą.*

Źródło: Mazowsze, wczoraj, dziś i jutro, s. 44

**Dokończ zdania. Wybierz właściwą odpowiedź spośród podanych.**

**9.1. Wiersz opisuje budowę drewnianego mostu w Warszawie ufundowanego przez króla**

- A. Kazimierza Wielkiego.
- B. Władysława Jagiełłę.
- C. Zygmunta Augusta.
- D. Stanisława Augusta Poniatowskiego.

**9.2. Most zbudowano w**

- A. 1 poł. XII w.
- B. 1 poł. XIV w.
- C. 2 poł. XVI w.
- D. 2 poł. XVIII w.

**Zadanie 10. (0–3)**

Tekst

*Po upadku powstania na społeczeństwo Mazowsza spadły kolejne represje. Zlikwidowano resztki autonomii Królestwa Polskiego, w 1875 roku zastępując nawet tę nazwę określeniem Kraj Nadwiślański. Zamknięto kilkanaście klasztorów, a duchowieństwo parafialne przyjęto na państwowe etaty. W gimnazjach w 1866 roku rosyjski stał się językiem wykładowym. Najmniejsze miasta, liczące mniej niż 3 tysiące mieszkańców, zostały na mocy ukazu carskiego z 1869 roku zdegradowane do rangi osad.*

Na podstawie: *Mazowsze, wczoraj, dziś i jutro*, s. 91-93

**10.1. Zaznacz poprawne dokończenie zdania.**

Opis dotyczy represji, które dotknęły kraj po powstaniu

- A. kościuszkowskim.
- B. listopadowym.
- C. styczniowym.
- D. warszawskim.

**10.2. Używając rzymskich cyfr podaj wiek, w którym doszło do wybuchu tego powstania.**

.....

**10.3. Wskaż jednego z dowódców tego powstania, wybierając spośród podanych w ramce.**

Marian Langiewicz, Józef Chłopicki, Tadeusz Bór-Komorowski, Tadeusz Kościuszko
--

Jednym z dowódców powstania był .....

**Zadanie 11. (0–1)**

Tekst

*Jeśli chodzi o zabytki związane z Kościołem katolickim, na pierwszym miejscu należy wymienić bazylikę katedralną pod wezwaniem Wniebowzięcia Najświętszej Maryi Panny w Płocku – ze względu na jej wielowiekową historię oraz walory artystyczne. Na szczególną uwagę zasługuje przylegająca do lewej nawy kaplica królewska, będąca miejscem pochówku dwóch władców Polski.*

Źródło: *Mazowsze, wczoraj, dziś i jutro*, s. 29-30

**Którzy władcy Polski pochowani są w kaplicy królewskiej w Płocku? Wybierz właściwą odpowiedź spośród podanych.**

- A. Władysław Jagiełło i Kazimierz Jagiellończyk
- B. Władysław Herman i Bolesław Krzywousty
- C. Bolesław Chrobry i Bolesław Śmiały
- D. Zygmunt Stary i Zygmunt August

**Zadanie 12. (0–2)**

Tekst

*W księgach [...] opactwa odnotowano wizytę [rycerzy pewnego zakonu], którzy hojnie zrewanżowali się za gościnę. Przybyli oni [tutaj] własną, imponującą flotyllą łodzi. Wizyta miała miejsce już po kasacie zakonu i zgładzeniu jego wielkiego mistrza przez króla Francji Filipa Pięknego (1314). Król pożył skarbu [zakonnego], jednak nigdy go nie odnalazł.*

Źródło: <https://modanamazowsze.pl>



Źródło: Ed88, CC BY-SA 3.0, [via Wikimedia Commons](#)

**Wykorzystując powyższy tekst oraz fotografię dotyczącą unikatowego na Mazowszu obiektu architektury sakralnej, zaznacz dokończenie zdań, wybierając właściwe odpowiedzi spośród podanych.**

**12.1. Fotografia przedstawia**

- A. bazylikę p.w. Świętego Krzyża w Warszawie.
- B. kolegiatę (dziś archikatedrę) pod wezwaniem św. Jana w Warszawie.
- C. katedrę Niepokalanego Poczęcia Najświętszej Maryi Panny w Siedlcach.
- D. bazylikę p.w. Zwiastowania Najświętszej Maryi Panny w Czerwińsku nad Wisłą.

**12.2. Tekst opisuje wizytę w niniejszym obiekcie rycerzy zakonu**

- A. Benedyktynów.
- B. Jezuitów.
- C. Templariuszy.
- D. Krzyżaków.

**Zadanie 13. (0–3)**

Tekst

*Jeszcze sto, dwieście lat temu na Mazowszu istniał rozwinięty przemysł leśny. Wiele wiosek nosi nazwy poświadczające jego istnienie. Bartniki koło Skierniewic i Bartodzieje koło Pultuska. [...] Pierwsze wzmianki historyczne [...] sięgają wieku XII. Barcie objęte były „prawem królewskim”. [...] W wieku XVI powołano sądy bartne, rozstrzygające spory związane z zakładaniem i użytkowaniem barci. [...] Sosny bartne znajdowały się głównie w kurpiowskiej Puszczy Myszynieckiej, zwanej też Zieloną. [...] Można je wciąż oglądać w rezerwacie Czarnia.*

Źródło: Lechosław Herz, *Podróże po Mazowszu*, s. 259-260



Źródło: Zygmunt Gloger, Domena publiczna, [via Wikimedia Commons](#)

Korzystając z tekstu i ilustracji, wpisz w luki właściwe uzupełnienia, które są dokończeniem zdań: 13.1 nazwa średniowiecznego zawodu, 13.2 nazwa produktu, 13.3 współczesna nazwa zawodu.

13.1. Opisaną w tekście grupę społeczną stanowili .....

13.2. Zajmowali się oni pozyskiwaniem .....

13.3. Współcześnie podobne czynności wykonują .....




**Zadanie 14. (0–4)**

**Połącz nazwiska przedstawionych na zdjęciach postaci oraz podaj nazwy miejsc związanych z tymi postaciami. Wpisz do tabeli właściwe nazwy spośród podanych.**

Fryderyk Chopin, Zygmunt Krasiński, Władysław Broniewski, Jan Kochanowski, Cyprian Kamil Norwid

Czarnolas, Laskowo-Głuchy, Opinogóra, Płock, Siedlce

<p>1. </p> <p>Karol Beyer, Domena publiczna, <a href="#">via Wikimedia Commons</a></p>	<p>2. </p> <p>Józef Buchbinder, Domena publiczna, <a href="#">via Wikimedia Commons</a></p>
<p>3. </p> <p>Michał Szweycer, Domena publiczna, <a href="#">via Wikimedia Commons</a></p>	<p>4. </p> <p>Domena publiczna, <a href="#">via Wikimedia Commons</a></p>

	Osoba (nazwisko)	Miejsce
1.	.....	.....
2.	.....	.....
3.	.....	.....
4.	.....	.....

**Zadanie 15. (0–1)**

Tekst

**Elegia o... [chłopcu polskim] (fragment)**

*I wyszedłeś, jasny synku, z czarną bronią w noc,  
i poczułeś, jak się jeży w dźwięku minut — zło.  
Zanim padłeś, jeszcze ziemię przeżegnałeś ręką.  
Czy to była kula, synku, czy to serce pękło?*

Źródło: [Wolne Lektury](#)

**Wskaż autora tego wiersza. Wybierz spośród podanych w ramce.**

Juliusz Słowacki,	Mikołaj Rej,	Jan Kochanowski,	Krzysztof Kamil Baczyński
-------------------	--------------	------------------	---------------------------

Autorem wiersza jest .....

**Zadanie 16. (0–2)**

Fotografia



Źródło: Kancelaria Senatu Rzeczypospolitej Polskiej CC BY-SA 3.0 PL [via Wikimedia Commons](#)

Tekst

*Zdjęcie przedstawia żyjącego w latach 1922–2015 żołnierza AK, historyka, działacza społecznego, a także polityka.*

**16.1. Podaj nazwisko przedstawionej na fotografii postaci.**

.....

**16.2. Podczas II wojny światowej ww. postać została awansowana na podporucznika (1.10.1944 r.) i odznaczona Krzyżem Walecznych (4.10.1944 r.). Podaj nazwę wydarzenia, za udział w którym ww. postać uzyskała awans i odznaczenie.**

.....

**Zadanie 17. (0–1)**

Tekst

*Ze względu na znaczną skalę ludnościową i terytorialną samorządowych regionów oraz szerokie spektrum zadań przyznanych samorządom, twórcy polskiej reformy podjęli [w 1998 r.] decyzję o utworzeniu pomiędzy poziomem gminnym a wojewódzkim jeszcze jednego szczebla administracji samorządowej – powiatów.*

Źródło: *Mazowsze, wczoraj, dziś i jutro*, s. 152

**Ile aktualnie jest powiatów w województwie, wliczając w to miasta na prawach powiatu?  
Zaznacz właściwą odpowiedź spośród podanych.**

- A. 6
- B. 42
- C. 182
- D. 308

**Zadanie 18. (0-2)**

Fotografia



Źródło: <https://mazovia.pl/>

*Lekarz, samorządowiec i społecznik, parlamentarzysta i polityk. Od grudnia 2001 r. nieprzerwanie przewodniczy kolegialnemu organowi wykonawczemu w samorządowym województwie.*

**18.1. Napisz imię i nazwisko osoby, do której odnoszą się materiały źródłowe (fotografia i tekst).**

Jest to .....

**18.2. Podaj nazwę funkcji, którą sprawuje w organie samorządowym województwa mazowieckiego przedstawiony na fotografii polityk. Odpowiedzi wybierz spośród:**

wojewoda, marszałek województwa, przewodniczący rady powiatu, prezydent miasta

**Zadanie 19. (0-2)**

W województwie mazowieckim niektóre miasta mają status tzw. miast na prawach powiatu.

**Wypisz trzy nazwy miast spośród podanych, które nie posiadają tego statusu.**

Ostrołęka, Otwock, Siedlce, Żyrardów, Płońsk, Płock

.....