

KOD UCZNIĄ		

# KONKURS WIEDZY O MAZOWSZU

dla uczniów szkół podstawowych  
województwa mazowieckiego

I ETAP SZKOLNY  
27 LUTEGO 2020

## Instrukcja

Czytaj uważnie wszystkie teksty i zadania.

W zadaniach z odpowiedziami: A, B, C, D lub P, F zaznacz znakiem jedną poprawną odpowiedź, otaczając ją kółkiem, np.:

B. lub  F

Jeśli się pomylisz, błędną odpowiedź przekreśl i zaznacz inną odpowiedź, np.:

B.  A. lub  F  P

Pozostałe zadania wykonaj zgodnie z poleceniami. Odpowiedzi starannie zapisz w wyznaczonych miejscach. Możesz korzystać z kalkulatora prostego i lupy.

Na wykonanie wszystkich zadań masz 60 minut.

*Powodzenia!*

UZUPEŁNIA ZESPÓŁ SPRAWDZAJĄCY		
Maksymalna liczba punktów	<b>30</b>	<b>100%</b>
Uzyskana liczba punktów		
Podpis przewodniczącego		

**Zadanie 1. (0–2)**

Oceń prawdziwość poniższych stwierdzeń. Wybierz P, jeśli stwierdzenie jest prawdziwe, albo F – jeśli jest fałszywe.

1.	Po raz pierwszy nazwa <i>Mazowsze</i> jako określenie ziem położonych w środkowym biegu Wisły pojawiła się w Latopisie Nestora datowanym na I poł. XII w.	P	F
2.	Istnieje obecnie wiele teorii dotyczących genezy nazwy <i>Mazowsze</i> .	P	F

**Zadanie 2. (0–1)**

Wskaż herb, który jest obowiązującym od 2006 r. herbem województwa mazowieckiego. Wybierz właściwą odpowiedź.



A. 1

B. 2

C. 3

D. 4

**Zadanie 3. (0–3)**



Na podstawie mapy oceń prawdziwość poniższych stwierdzeń. Wybierz P, jeśli stwierdzenie jest prawdziwe, albo F – jeśli jest fałszywe.

1.	Województwo mazowieckie położone jest w środkowo-wschodniej Polsce.	P	F
2.	Od południa województwo mazowieckie graniczy z województwem małopolskim.	P	F
3.	Warszawa znajduje się w północnej części województwa mazowieckiego.	P	F

**Zadanie 4. (0–1)**

**W województwie mazowieckim spośród 88 miast pięć posiada status miasta na prawach powiatu. Które miasto oprócz Warszawy, Radomia, Płocka i Siedlec posiada taki status? Wybierz właściwą odpowiedź.**

- A. Ciechanów
- B. Grodzisk Mazowiecki
- C. Nowe Miasto nad Pilicą
- D. Ostrołęka

**Zadanie 5. (0–1)**

**Które drzewo jest symbolem Mazowsza? Wybierz właściwą odpowiedź.**

1.



2.



3.



4.



- A. 1 – brzoza
- B. 2 – dąb
- C. 3 – wierzba
- D. 4 – sosna

**Zadanie 6. (0–2)**

**Uzupełnij zdanie. Wybierz właściwe odpowiedzi.**

Jeden ze skansenów na Mazowszu znajduje się na terenie **A/B**. Skansen to **C/D**.

- |                   |  |
|-------------------|--|
| <b>A.</b> Sierpca | <b>C.</b> muzeum na wolnym powietrzu prezentujące kulturę ludową |
| <b>B.</b> Węgrowa | <b>D.</b> miejsce przechowywania pamiątek po wielkich pisarzach  |

**Zadanie 7. (0–4)**

**Uzupełnij notatkę dotyczącą dorocznych wydarzeń i uroczystości na terenie województwa mazowieckiego. Wpisz właściwe uzupełnienia wybrane spośród podanych w nawiasach.**

Kurpiowskie miodobranie odbywa się w (gminie Myszyniec/Ostrołęce)  
....., zaś w Łysych – konkurs na (palmę wielkanocną/koszyczek  
wielkanocny) ..... Innym ważnym świętem  
obchodzonym w Grójcu jest święto (kwitnącej jabłoni/pieczonego ziemniaka)  
..... Każdego roku w (Mińsku Mazowieckim/Ostrowi  
Mazowieckiej) ..... sławy literatury odsłaniają swoją gwiazdę  
w Alei Gwiazd Literatury.

**Zadanie 8. (0–2)**

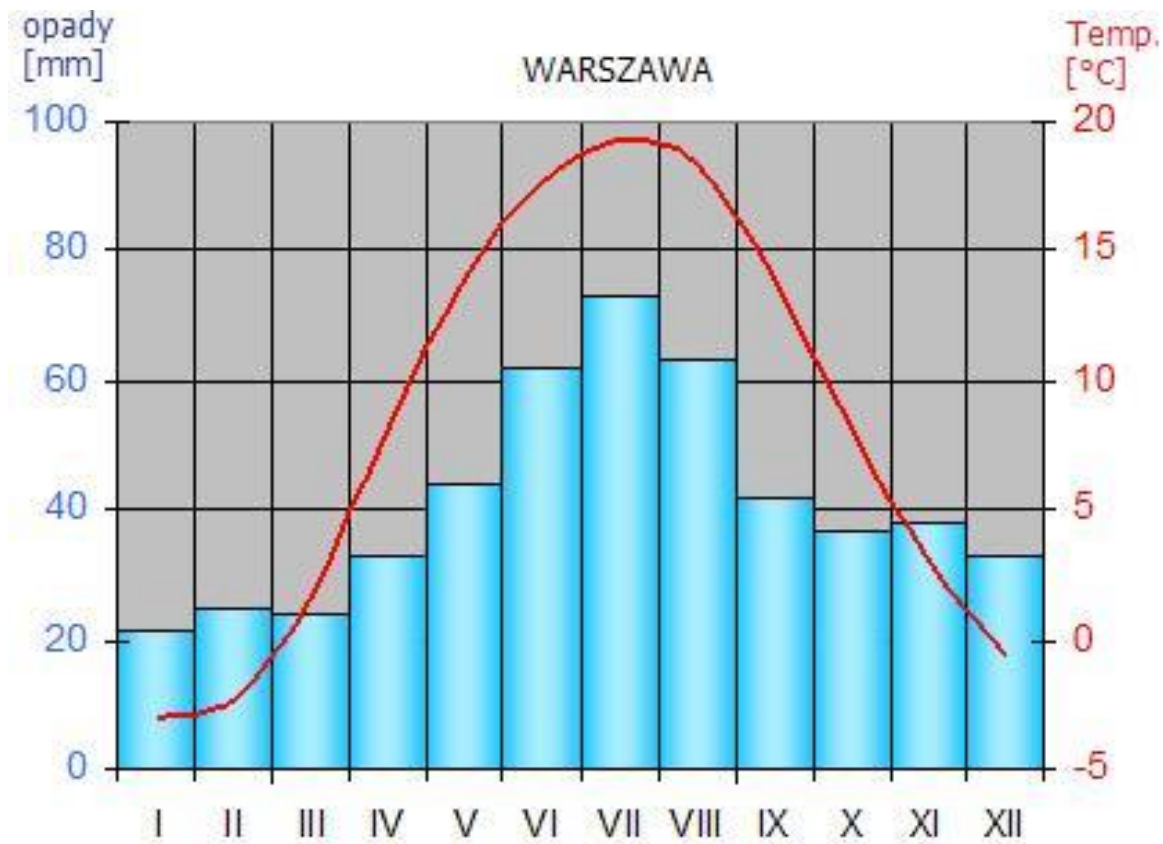
**Uzupełnij zdania. Wybierz właściwe odpowiedzi.**

Miasto, w którym znajduje się najdłuższy brukowany rynek w Polsce to **A/B**. Jego długość wynosi **C/D**.

- |                   |                       |
|-------------------|-----------------------|
| <b>A.</b> Płock   | <b>C.</b> ok. 400 m   |
| <b>B.</b> Pułtusk | <b>D.</b> ponad 800 m |

**Zadanie 9. (0–2)**

**Klimatogram przedstawia dane klimatyczne zebrane w Warszawie w ciągu roku.**



**Dokończ zdania. Wybierz właściwe odpowiedzi.**

**9.1.** Roczna amplituda temperatury powietrza wynosi około

- A.  $-3^{\circ}\text{C}$ .
- B.  $0^{\circ}\text{C}$ .
- C.  $19^{\circ}\text{C}$ .
- D.  $22^{\circ}\text{C}$ .

**9.2.** Roczna suma opadów atmosferycznych wynosi około


- A. 600 mm.
- B. 500 mm.
- C. 400 mm.
- D. 300 mm.

**Zadanie 10. (0–1)**

**Przeczytaj poniższy tekst dotyczący opisu bazyliki katedralnej Najświętszej Maryi Panny w Płocku.**

*Najstarsze zachowane partie murów powstały w pierwszej połowie XII wieku. Na szczególną uwagę zasługuje przylegająca do lewej nawy kaplica królewska, będąca miejscem pochówku dwóch władców Polski – Władysława Hermana i Bolesława Krzywoustego oraz książąt mazowieckich i płockich. Na symbolicznym zbiorowym sarkofagu widnieje łacińska inskrypcja: „Domini et haeredes” – „Władcy i dziedzice”.*

1.



2.



3.



4.



**Dokończ zdanie. Wybierz właściwą odpowiedź.**

Zabytek, o którym mowa w opisie, został przedstawiony na fotografii oznaczonej numerem

- A. 1.
- B. 2.
- C. 3.
- D. 4.

**Zadanie 11. (0–4)**

**Wpisz miejscowości, w których znajdują się przedstawione na fotografiach zamki.  
Wykorzystaj informacje z ramki – jedna miejscowość nie pasuje do żadnej fotografii.**

Czersk, Ciechanów, Liw, Warszawa, Rawa Mazowiecka

1. ....



2. ....



3. ....



4. ....





**Zadanie 12. (0–1)**

**Przeczytaj podany tekst, a następnie dokończ zdanie.**

*Tu, na terenie Puszczy Kampinoskiej, zostało rozstrzelanych około 2000 osób. Tajne egzekucje miały miejsce od 7 grudnia 1939 do 17 lipca 1941 roku. Ofiary to głównie przedstawiciele inteligencji. Celem Niemców było wymordowanie tych, którzy mogli stanąć na czele organizacji podziemnych.*

Egzekucje, o których mowa w powyższym fragmencie, miały miejsce w

- A. Laskach.
- B. Otwocku.
- C. Powsinie.
- D. Palmirach.

**Zadanie 13. (0–1)**

**Dokończ zdanie. Wybierz właściwą odpowiedź.**

Największym cmentarzem na ziemiach polskich i jednym z największych w Europie jest warszawski

- A. Komunalny Cmentarz Północny w Wólce Węglowej.
- B. Cmentarz Powązkowski zwany Starymi Powązkami.
- C. cmentarz żydowski przy ul. Okopowej.
- D. ewangelicko-augsburski cmentarz parafialny przy ul. Młynarskiej.

**Zadanie 14. (0–1)**

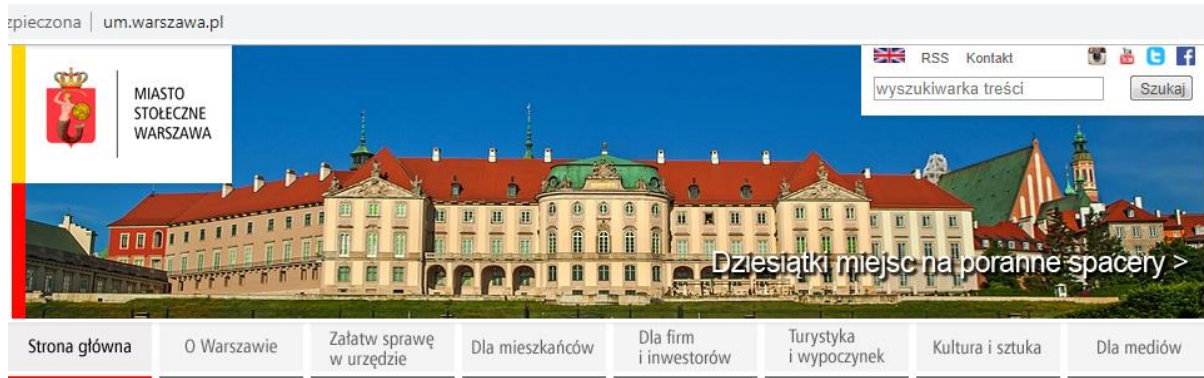
**Dokończ zdanie. Wybierz właściwą odpowiedź.**

Wznoszony od 1881 roku układ filtrów, które do dzisiaj są integralną częścią systemu wodociągów Warszawy, zostały wybudowane według projektu

- A. Hipolita Wawelberga.
- B. Williama Lindleya.
- C. Samuela Orgelbanda.
- D. Leopolda Kronenberga.

**Zadanie 15. (0–1)**

Obejrzyj zamieszczony fragment strony internetowej Urzędu Miejskiego w Warszawie.



Jaki obiekt znajduje się w prezentowanej części strony internetowej? Wybierz właściwą odpowiedź.

- A. Zamek Królewski.
- B. Zamek Ujazdowski.
- C. Pałac w Wilanowie.
- D. Pałac Łazienkowski.

**Zadanie 16. (0–3)**

Do podanych tekstów przyporządkuj zdjęcie twórcy, którego ten tekst dotyczy. Jedno zdjęcie nie pasuje do żadnego opisu. Odpowiedzi zaznacz w tabeli pod zdjęciami.

1.

*Urodził się i mieszkał w Warszawie. Był harcerzem. Studiował polonistykę na tajnym Uniwersytecie Warszawskim. Wybuch powstania warszawskiego zaskoczył go w rejonie placu Teatralnego. Poległ na posterunku w Pałacu Blanka. Dziś uznawany za jednego z najwybitniejszych poetów.*

2.

*Wielki polski kompozytor i pianista. W 1830 r. na zawsze opuścił Polskę i wyjechał do Paryża, gdzie koncertował, komponował i udzielał lekcji gry na fortepianie. Brał udział w życiu polskiej emigracji i utrzymywał kontakty z polskimi intelektualistami.*

3.

*Jeden z najwybitniejszych twórców malarstwa realistycznego w Polsce. Choć w swoim życiu przemierzył znaczną część Europy, urodził się i umarł na Mazowszu. Od 1889 roku mieszkał i tworzył w Kuklówce. Jego obrazy upamiętniają między innymi mazowiecki krajobraz.*

*Konkurs Wiedzy o Mazowszu dla uczniów szkół podstawowych  
województwa mazowieckiego – 2019/2020. Etap szkolny*

**A.**



**B.**



**C.**



**D.**



<b>Tekst 1.</b>	<b>A.</b>	<b>B.</b>	<b>C.</b>	<b>D.</b>
<b>Tekst 2.</b>	<b>A.</b>	<b>B.</b>	<b>C.</b>	<b>D.</b>
<b>Tekst 3.</b>	<b>A.</b>	<b>B.</b>	<b>C.</b>	<b>D.</b>

Źródła ikonografii wykorzystanej w zadaniach:

[www.pl.wikipedia.org](http://www.pl.wikipedia.org)  
<https://www.wikimedia.org/>  
[www.mojpieknyogrod.pl](http://www.mojpieknyogrod.pl)  
[www.swietodrzewa.pl](http://www.swietodrzewa.pl)  
[www.sadowniczy.pl](http://www.sadowniczy.pl)  
[www.warsawtour.pl](http://www.warsawtour.pl)  
[www.gdziebytudalej.pl](http://www.gdziebytudalej.pl)  
<https://www.um.warszawa.pl/>  
[www.zamekczersk.pl](http://www.zamekczersk.pl)  
<http://grychowski.eu>  
[www.dzieje.pl](http://www.dzieje.pl)